

配布される資料とその使い方

栃木県教育委員会学校教育課 学力向上推進室

県教育委員会では、とちぎっ子学習状況調査に関係する様々な資料を配布しています。ぜひ、お子様と一緒にどんな資料が配布されているのか、それらの資料をどのように使うのかを確認していただき、お子様の家庭学習の充実に役立ててください。


どんなものが配られるのですか。



家庭に配布されるもの

個人票

教科



得意なところや、
苦手なところが
分かります。

答案用紙



どのように答えた
かが分かります。

正答(例)

問題番号	正答	解説
1	ア	アは「...」で、...
2	イ	イは「...」で、...
3	エ	エは「...」で、...
4	エ	エは「...」で、...
5	エ	エは「...」で、...
6	エ	エは「...」で、...
7	エ	エは「...」で、...
8	エ	エは「...」で、...
9	エ	エは「...」で、...
10	エ	エは「...」で、...
11	エ	エは「...」で、...
12	エ	エは「...」で、...
13	エ	エは「...」で、...
14	エ	エは「...」で、...
15	エ	エは「...」で、...
16	エ	エは「...」で、...
17	エ	エは「...」で、...
18	エ	エは「...」で、...
19	エ	エは「...」で、...
20	エ	エは「...」で、...

見直しをす
る際の参考
になります。

質問紙




学習や生活の
様子などが分
かります。

調査問題



前の学年までに
学習した内容から
出題しています。

復習用資料




調査問題に
関連した問題
があります。


とちぎっ子学習状況調査とは

- ・平成26年度から始まった、栃木県独自の学力や学習状況に関する調査です。
- ・県内全ての公立小学校4年生・5年生、中学校2年生が対象です。
- ・児童生徒一人一人の強み(得意なところ)と課題(苦手なところ)を把握し、学力の向上を目指します。 ※ 順位は出ません。





フォローアップシートはどのように使えばよいのですか。



学習のアドバイスに示されたページから解いてみましょう。
また、ほかの問題にも挑戦し、さらに力を付けましょう。

個人票

教科

平成 年度 とちぎっ子学習状況調査 あなたの結果

教科別正答率 (%)

教科	あなた	県平均	国平均	全国平均
国語	78.0	75.0	100.0	72.4
算	73.9	69.8	100.0	73.0
算	74.2	69.8	100.0	69.8

小学校4年国語

小学校4年算数

小学校4年理科

この日から分かること

★算数はたいへんよくできました。とくいな教科なので、下のアドバイスを読んで、さらに力をのばしましょう。

◆たし算・ひき算の問題は、もう少しがんばりましょう。計算のしかたを、もう一度教科書でふく習しておきましょう。答えのたしかめもかならずしようね。⇒16

◆時ごとと時間の問題は、あとひとつがんばりですね。1時間は60分であることに注意して、もう一度教科書でおさらいしておきましょう。⇒22

◆ぼうグラフの問題は、もうひと息でした。ぼうグラフはふだんの生活でもよく目とします。わからないところをふく習しておきましょう。⇒29

調査問題

16 下のぼうグラフは、たいすけさんが先週の月曜日から金曜日にかけて家庭学習をした時間を調べてまとめたものです。あとの問題に答えましょう。

家庭学習をした時間

曜日	時間(分)
月曜日	40
火曜日	20
水曜日	35
木曜日	50
金曜日	30

(1) たてのじくのもりめは、何分を表していますか。

(2) 家庭学習をした時間が2番目に多かったのは何曜日ですか。答えは1～5から1つえらんで、その番号を書きましょう。

1 月曜日 2 火曜日 3 水曜日
4 木曜日 5 金曜日

もう一度、調査問題に取り組むことも大切です。

フォローアップシート

小学算数4年

ぼうグラフ

組番 月 日 日曜日

名前 /2

ぼうグラフの読み方がわかる。

ぼうグラフに書くと、大きさがくらべやすくなって、べんりです。

下のぼうグラフは、けんすけさんの組の人たちの、家にかかっている動物を調べたものです。

(1) 人数が3番目に多い動物は何ですか。

(2) 犬をかかっている人は何人ですか。

(3) 犬をかかっている人は、ねをかかっている人より何人多いですか。

(1) ぼう3番目に多い動物は、ねです。

(2) グラフから読み取ると、犬をかかっている人は5人です。

(3) ねをかかっている人は10人、犬をかかっている人は5人です。10人 - 5人 = 5人。犬をかかっている人は、ねをかかっている人より5人多いです。

右のぼうグラフは、4月から7月にまゆさんの組でけいせきした人数を調べたものです。

(1) 5月は何人でした。ぼうグラフをかきかいてみましょう。

(2) けいせきした人数が多いじゅんを月を書きかきましょう。

[月]

29

自分にあつた問題に取り組むことができます。

指定されたページを学習することで、得意なところをさらに伸ばしたり、苦手なところを改善したりすることができます。

夏休みなどの長期休業中の復習や、毎日の家庭学習などに活用しましょう。

よーし、このページの問題を解いてみよう！



調査結果をお子様と一緒に確認し、自分から学習に取り組むことができるよう認め励ますことが大切です。家庭学習を充実させるため、学習の進め方や家庭での過ごし方などについて話し合ってみましょう。